

Leer y escribir números de varias cifras

1

Lectura y escritura de números hasta cinco cifras.
Regularidades de la serie escrita.
Relación entre el nombre y la escritura.
Escribir números a partir de otros números dados.

FICHA N^o1

Números más o menos conocidos. Parte I

1. El siguiente cuadro tiene escrito algunos números ordenados desde el 60 al 169. Completá solamente los casilleros marcados.

60	61	62	63	64	65	66	67	68	
70						76			
	81							88	
								98	
	101		103						
								118	
	121				125				
130									139
					145				
					165				169

2. En esta recta están escritos, en forma ordenada, los números redondos de 100 en 100 desde el 0 hasta el 1000. Completá los que faltan.



FICHA N°2

Números más o menos conocidos. Parte II

1. En estos carteles hay números. Marcá con una cruz los que sabés cómo se llaman y escribí sus nombres debajo. Podés ayudarte con los carteles de la recta de la ficha anterior.

320

750

270

457

980

2. En esta recta aparecen los números ordenados de 50 en 50. Completá los que faltan sobre las líneas punteadas.



3. En la vidriera de un negocio están colocando los carteles con los precios de los productos "al por mayor". En la lista está la información de cada precio. Escribí los números con el precio que corresponde a cada cartel.

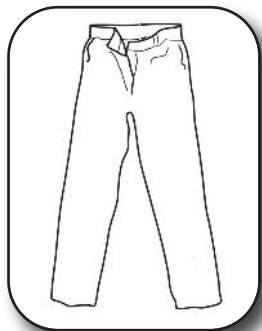
Lista precios:

Remera: CIENTO OCHENTA Y NUEVE

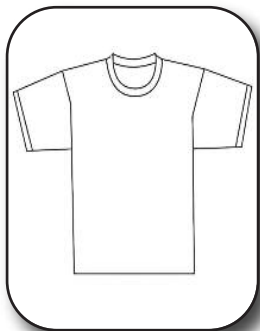
Pantalón: SEISCIENTOS NUEVE

Buzo con capucha: SEISCIENTOS NOVENTA

Campera: OCHOCIENTOS NUEVE



\$.....



\$.....



\$.....



\$.....

FICHA N^o3

Números más o menos conocidos. Parte III

1. ¿Cómo se escribe el número

CUATROCIENTOS OCHO?

Te puede ayudar saber que:

CUATROCIENTOS se escribe así **400**

CUATROCIENTOS TRES se escribe así **403**

4008

48

480

408

¿Cómo te diste cuenta cuál era el correcto?

2. Si **QUINIENTOS OCHO** se escribe así **508**, ¿cómo se escribirán estos números?

QUINIENTOS DOS:

QUINIENTOS TREINTA Y OCHO:

QUINIENTOS OCHENTA:



Los números entre el cien (100) y el mil (1000) se escriben con tres cifras.

Las cifras son los dígitos del 0 al 9 que forman los números. Por ejemplo el número 567 tiene tres cifras: el 5, el 6 y el 7.

El primer número de tres cifras es el 100 (cien) y el último es el 999 (novecientos noventa y nueve).

¿Cuál es el número anterior al 100? ¿Y el anterior al 1000?

FICHA N^o4 Uno más y uno menos

1. Completá el cuadro anotando el número anterior y el número siguiente a los números de la columna del medio.

(-1)	←	→	(+1)
Anterior	NÚMERO	Siguiete	
	38		
	125		
	109		
	807		
	399		
	999		
	240		
	779		
	456		

¿Cuál te resultó más difícil de completar?

2. Decidir cuál es el número siguiente a otro a veces no es tan fácil. ¿Cuál es el número siguiente a...?

- | | | | |
|----------|-----------|-----------|-----------|
| 99 | 199 | 499 | 599 |
| 89 | 189 | 489 | 699 |
| 79 | 179 | 479 | 799 |
| 69 | 169 | 469 | 899 |
| 59 | 159 | 459 | 999 |

¿Cómo es el número siguiente de los números que terminan con 9?
¿Siempre sucede lo mismo?

FICHA N°5 Los de mil. Parte I

Esta información les puede servir para leer y escribir otros números

1.000	<i>MIL</i>
2.000	<i>DOS MIL</i>
3.000	<i>TRES MIL</i>
4.000	<i>CUATRO MIL</i>
5.000	<i>CINCO MIL</i>
6.000	<i>SEIS MIL</i>
7.000	<i>SIETE MIL</i>
8.000	<i>OCHO MIL</i>
9.000	<i>NUEVE MIL</i>
10.000	<i>DIEZ MIL</i>

El año DOS MIL DIECINUEVE se escribe 2019

1. ¿Cuál de los siguientes números es el correcto para escribir el año DOS MIL DIECISIETE?

2.000

1.007

2.017

217

20.017

¿Cómo te diste cuenta cuál era el correcto?

2. ¿Cómo se escribirá con números el año anterior al 2019? ¿Y el año siguiente?

Año anterior:.....

Año siguiente:.....

3. ¿En qué año naciste? Averigüalo y escríbelo con números:

Nací el año :

FICHA N°6 Los de mil. Parte II

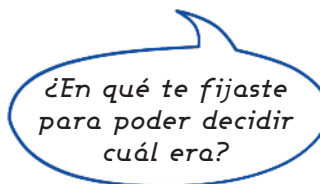
1. Este cuadro contiene todos los números desde el 2000 (*dos mil*) al 2100 (*dos mil cien*) de uno en uno pero algunos no están escritos.

a- Completá los números que faltan.

2.000	2.001	2.002	2.003	2.004	2.005		2.007	2.008	2.009
2.010	2.011	2.012	2.013		2.015	2.016	2.017	2.018	2.019
	2.021		2.023	2.024	2.025	2.026	2.027		2.029
2.030	2.031		2.033	2.034	2.035	2.036	2.037		
		2.042	2.043	2.044	2.045	2.046	2.047	2.048	2.049
2.050	2.051			2.054		2.056	2.057	2.058	
2.060	2.061	2.062	2.063	2.064		2.066	2.067	2.068	2.069
	2.071	2.072	2.073	2.074		2.076	2.077	2.078	2.079
2.080	2.081	2.082	2.083	2.084	2.085			2.088	
2.090					2.095	2.096		2.098	
2.100	2.101	2.102						2.108	2.109

b- Marcá con un círculo los siguientes números del cuadro.

DOS MIL CUARENTA Y SEIS
 DOS MIL CINCUENTA Y SEIS
 DOS MIL SESENTA Y SEIS
 DOS MIL SETENTA Y SEIS



c- ¿Cuántos números hay entre el *dos mil cuarenta y seis* y el *dos mil cincuenta y seis*?

.....

FICHA N°7 Los de mil. Parte III

1. El **DOS MIL CUATROCIENTOS** se escribe así **2400**,

¿cómo se escribirá el número **DOS MIL QUINIENTOS**?

2. ¿Cuál de estos números es el **DOS MIL QUINIENTOS CUATRO**? Marca lo.

2000504

2504

2540

3. Completá las rayitas para que quede formado el número.

TRES MIL QUINIENTOS OCHO 3_ _ _

TRES MIL QUINIENTOS OCHENTA 3_ _ _

TRES MIL OCHOCIENTOS CINCO 3_ _ _

*¿Qué consejos podrías dar a otros chicos para ayudarlos a escribir números **de los miles**?*



Los números entre MIL (1000) Y DIEZ MIL (10000) se escriben con **CUATRO CIFRAS**.

El primer número de cuatro cifras es el 1000 (mil) y el último es el 9999 (nueve mil novecientos noventa y nueve).

Para tener en cuenta: A partir de los números de cuatro cifras es posible usar punto para poder leerlos más fácil pero su uso no es obligatorio.

Por ejemplo CUATRO MIL SETECIENTOS se puede escribir usando el punto 4.700 o también dejando un espacio 4 700 o sin dejar espacio ni usando el punto 4700.

FICHA Nº8

Un juego con cartas para armar números de 4 cifras

▪ MATERIALES:

- Cartas con los dígitos del 0 al 9. Un mazo para cada equipo.

▪ CÓMO SE JUEGA:

El objetivo del juego es armar la mayor cantidad posible de números de cuatro cifras, en un tiempo determinado.

- Cada equipo mezcla sus tarjetas y, cuando el director del juego da la orden, se dan vuelta cuatro tarjetas.
- Cada jugador anota todos los números que se le ocurren con esas cifras, hasta que el director detiene el juego.
- Por turnos, cada uno lee los números que armó.
- Si el número que leyó no lo tiene otro participante, se anota dos puntos; si lo tiene escrito algún compañero, vale 1 punto.

▪ Para hacer después de jugar I

En el juego salen estas cartas. Anotá abajo todos los números que podrían formarse y escribí al lado el nombre de cada uno.

5

8


0

2

FICHA N°9

Para después de jugar II

1. Ahora en el juego hay cartas repetidas. En esta tirada salieron muchos 9. Anotá todos los números distintos que podrían formarse y escribí al lado el nombre de cada uno.



2. Ariel juega con Rocío. Calculá el puntaje que obtuvo Ariel. Al lado de cada número, anotá 1 punto si Rocío lo tiene y 2 puntos si no lo tiene.

Ariel:

<i>Cuatro mil ciento veintinueve</i>
<i>Cuatro mil ciento noventa y dos</i>
<i>Nueve mil doscientos cuarenta y uno</i>
<i>Nueve mil cuatrocientos veintiuno</i>
<i>Nueve mil cuatrocientos doce</i>
<i>Mil novecientos veinticuatro</i>

Rocío:

<i>9241</i>
<i>2914</i>
<i>9214</i>
<i>4192</i>
<i>9921</i>
<i>1412</i>

¿Qué puntaje obtuvo Ariel?

FICHA Nº10

Los "dieces" de los miles. Parte I

Esta información te puede servir para leer y escribir otros números.

10.000	<i>DIEZ MIL</i>
20.000	<i>VEINTE MIL</i>
30.000	<i>TREINTA MIL</i>
40.000	<i>CUARENTA MIL</i>
50.000	<i>CINCUENTA MIL</i>
60.000	<i>SESENTA MIL</i>
70.000	<i>SETENTA MIL</i>
80.000	<i>OCHENTA MIL</i>
90.000	<i>NOVENTA MIL</i>
100.000	<i>CIEN MIL</i>

1. Completá el cuadro:

<i>Número</i>	<i>Nombre</i>
53.000	<i>CINCUENTA Y TRES MIL</i>
58.000	
	<i>CINCUENTA Y DOS MIL</i>
59.000	
	<i>CINCUENTA Y CINCO MIL</i>

2. El CUARENTA Y DOS MIL se escribe 42.000. Teniendo eso en cuenta, ¿cuál de los siguientes será el CUARENTA Y CINCO MIL?

40.500

45.000

40.050

40.005

FICHA N°11

Los "dieces" de los miles. Parte II

1. Completá este número para que represente:

OCHENTA Y CUATRO MIL TRESCIENTOS 8 _ _ _ _

OCHENTA Y CUATRO MIL TRES 8 _ _ _ _

OCHENTA Y CUATRO MIL TREINTA 8 _ _ _ _

2. Este es el número **CUARENTA MIL OCHOCIENTOS: 40.800**

¿Cómo se escribirá el...

CUARENTA MIL OCHENTA

CUARENTA MIL OCHO

CUARENTA MIL OCHOCIENTOS OCHENTA

3. Armá todos los números que puedas combinando los siguientes nombres. Hay que usar por lo menos dos carteles cada vez, y escribirlos con cifras al lado.

mil

setenta

y

cincuenta

ciento

cuatro

seis

¿Armaste algún número con ceros en el medio?



Algunos números se escriben con ceros intermedios y otros, no. Es difícil, a veces, reconocer cuándo hay que escribir ceros y cuándo no. Para decidirlo, conviene tener en cuenta la información que da el nombre del número y la cantidad de cifras que deberá tener. Por ejemplo si es de los *cienes* lleva tres cifras, si es de los *miles* lleva cuatro, si es de los *dieces de los miles*, lleva cinco cifras.

¿Cómo se escribe el CUATRO MIL OCHENTA Y CINCO?
¿Tendrá algún cero en el medio?